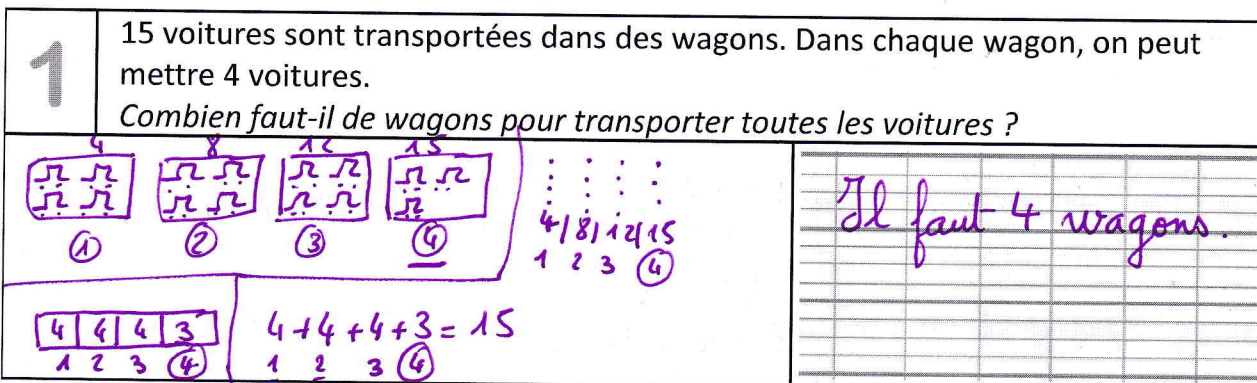


Mes p'tits problèmes hebdomadaires

CE1 – fiche n° 6

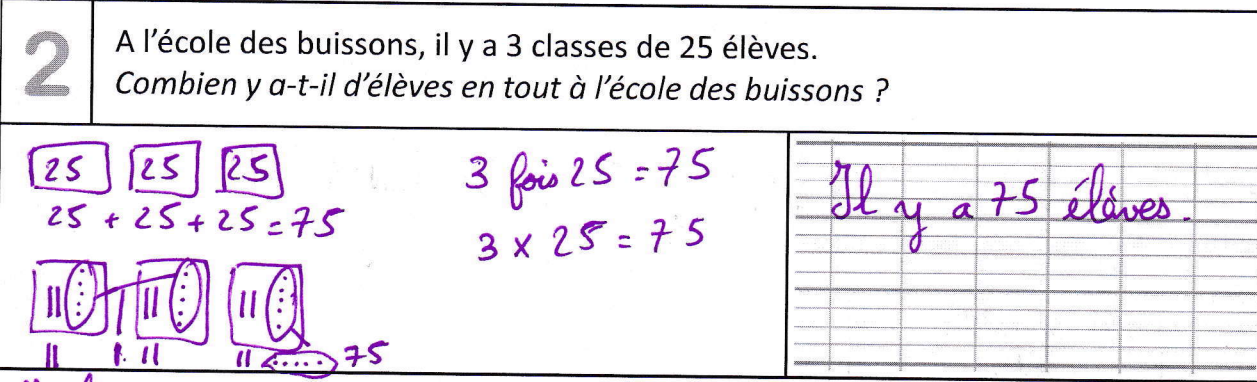
1 15 voitures sont transportées dans des wagons. Dans chaque wagon, on peut mettre 4 voitures.
Combien faut-il de wagons pour transporter toutes les voitures ?



Il faut 4 wagons.



2 A l'école des buissons, il y a 3 classes de 25 élèves.
Combien y a-t-il d'élèves en tout à l'école des buissons ?

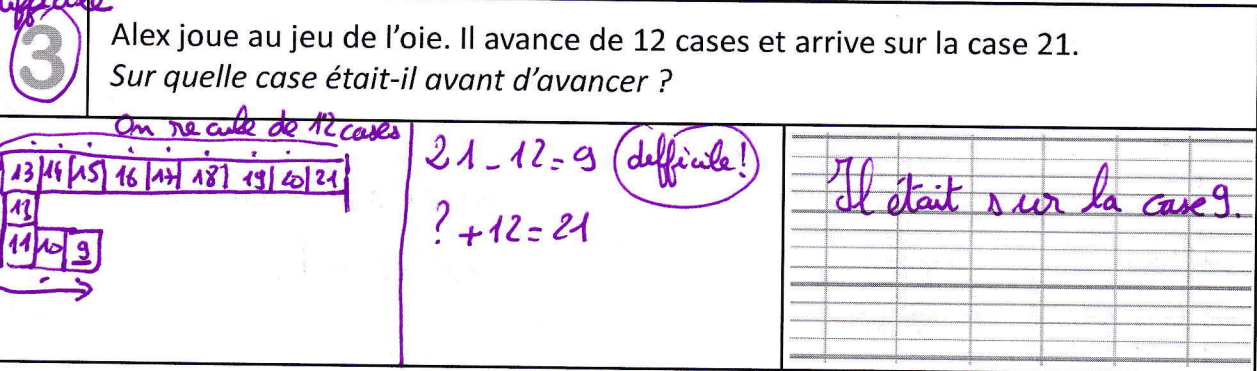


Il y a 75 élèves.



⚠️ difficile

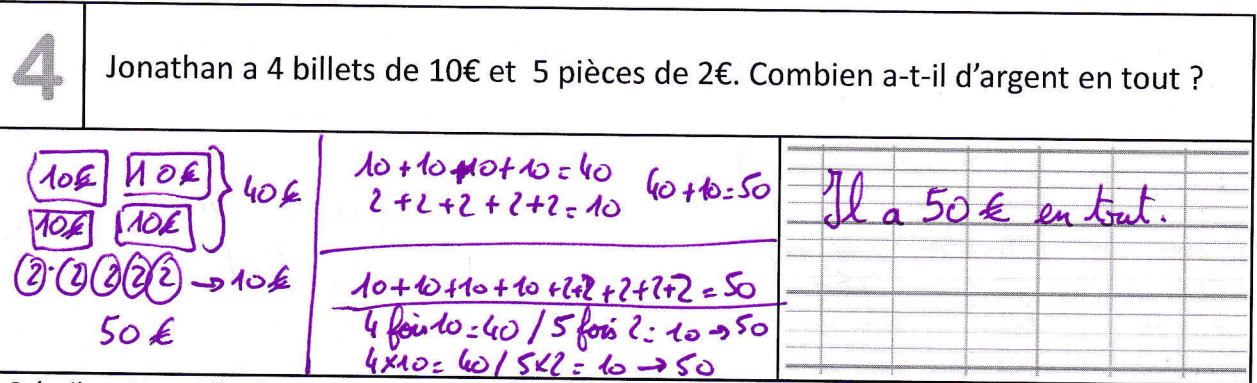
3 Alex joue au jeu de l'oie. Il avance de 12 cases et arrive sur la case 21.
Sur quelle case était-il avant d'avancer ?



Il était sur la case 9.



4 Jonathan a 4 billets de 10€ et 5 pièces de 2€. Combien a-t-il d'argent en tout ?



Il a 50€ en tout.



3 étoiles : Une si l'opération ou le dessin sont adaptés, une si le résultat est juste, une si la phrase réponse est bien formulée
+ 1 cœur – bonus si l'orthographe est correcte.